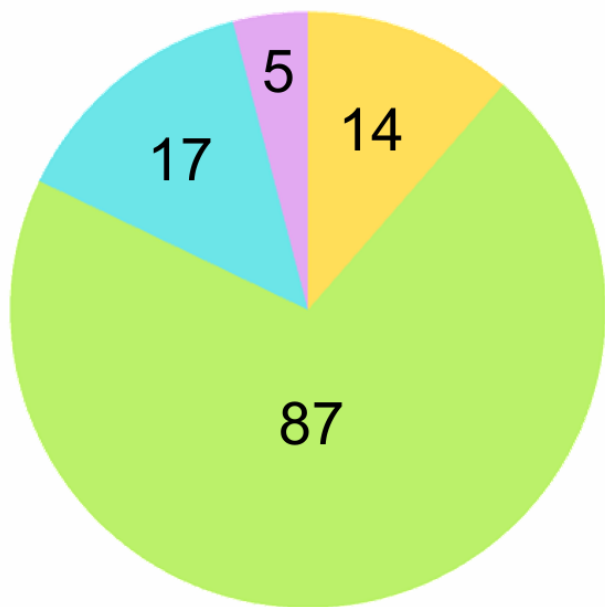


Moyens de transport des élèves de CM2 pour aller à l'école



● En trottinette ● À pied
● En voiture ● En bus

1	Quel est le moyen de transport le plus utilisé ?
2	Combien d'élèves viennent en trottinette ?
3	Quel est le moyen de transport le moins utilisé ?
4	Combien d'élèves viennent en bus et en voiture ?
5	Ce sondage concerne combien d'élèves ?

1.
.....

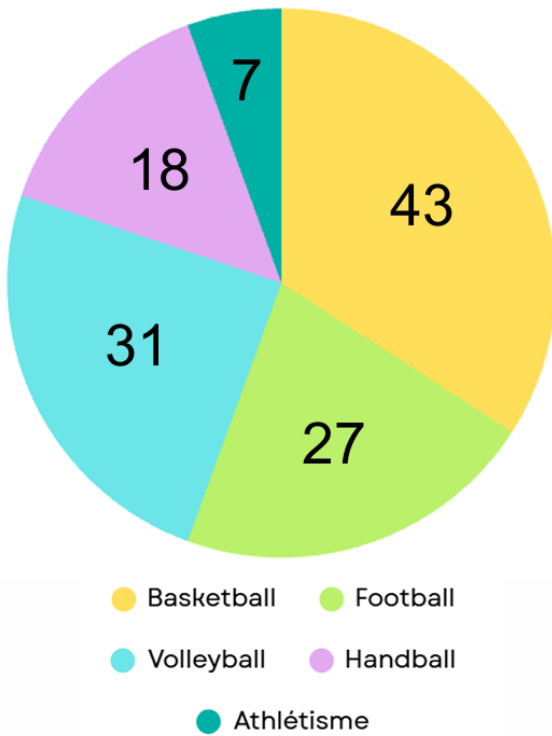
2.
.....

3.
.....

4.
.....

5.
.....

Le sport pratiqué par des élèves de CM1



1	Combien de sports y a-t-il en tout ?
2	Quel est le sport le plus pratiqué ?
3	Combien d'élèves pratique un sport avec un ballon ?
4	Quel est le sport le moins pratiqué ?
5	Ce sondage concerne combien d'élèves de CM1 ?

1.

.....

2.

.....

3.

.....

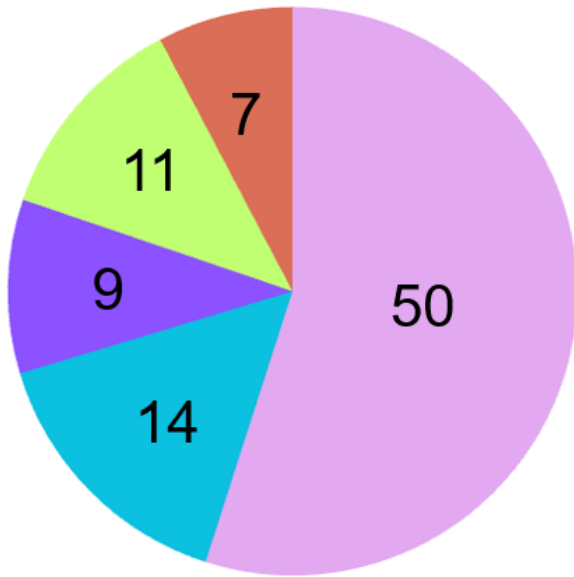
4.

.....

5.

.....

Répartition des plats d'une famille sur un mois



- Faits maison
- Fast-food
- Restaurant
- Snacks
- Chez la famille

1	Combien de plats faits maison y a-t-il ?
2	Combien de plats ne sont pas faits maison ?
3	Combien de plats de moins y'a-t-il au restaurant qu'au fast-food ?
4	Quelle catégorie est la moins représentée ?
5	Combien de plats y a-t-il en tout ?

1.

.....

2.

.....

3.

.....

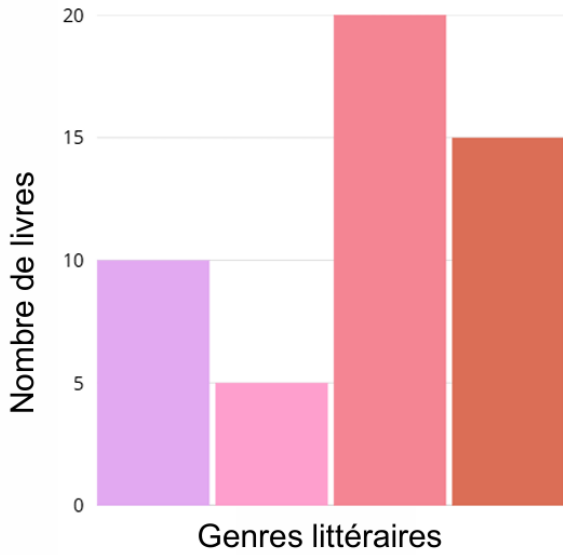
4.

.....

5.

.....

Les genres littéraires de la bibliothèque



1	Combien de genres littéraires y a-t-il ?
2	Combien de romans y a-t-il ?
3	Quel est le genre littéraire où il y a le plus de livres ?
4	Combien y a-t-il de documentaires de plus que d'albums ?
5	Combien de livres y a-t-il en tout ?

● Romans ● Album ● BD ● Documentaire

1.
.....

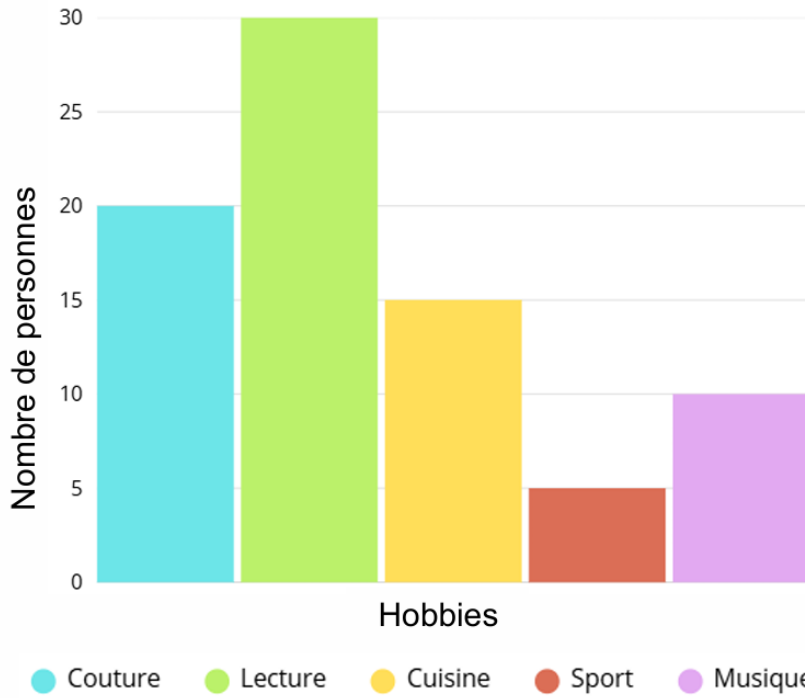
2.
.....

3.
.....

4.
.....

5.
.....

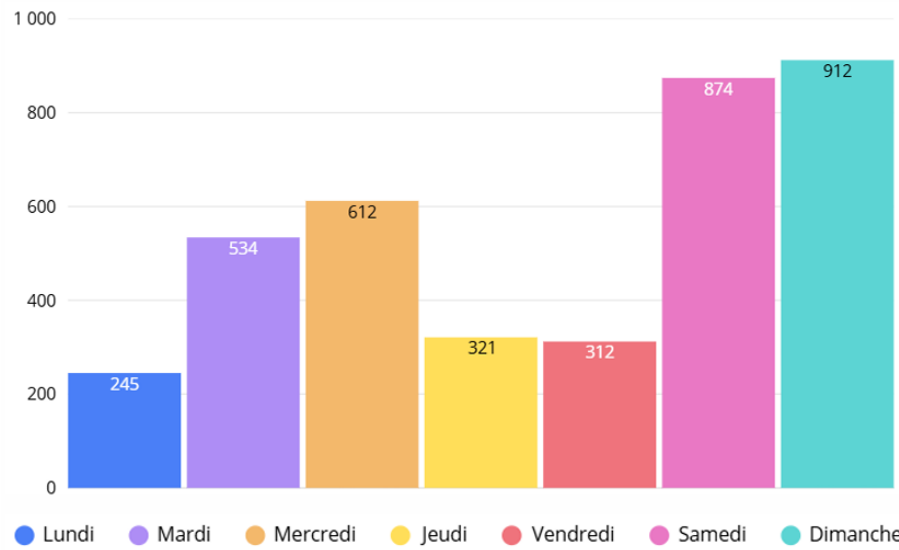
Les loisirs d'un groupe d'adulte



1	Combien de personnes adorent lire ?
2	Combien de loisirs y a-t-il ?
3	Quel loisir est le moins représenté ?
4	Quel loisir est le plus représenté ?
5	Combien de personnes font de la couture ?

-
.....
-
.....
-
.....
-
.....
-
.....

Les visiteurs d'un zoo sur une semaine



1	Quel est le jour où le zoo a été le moins fréquenté ?
2	Combien y a-t-il eu de visiteurs durant le week-end ?
3	Quel est le jour où le zoo a été le plus fréquenté ?
4	Combien de visiteurs le zoo a-t-il accueillis sur toute la semaine ?

1.

.....

2.

.....

3.

.....

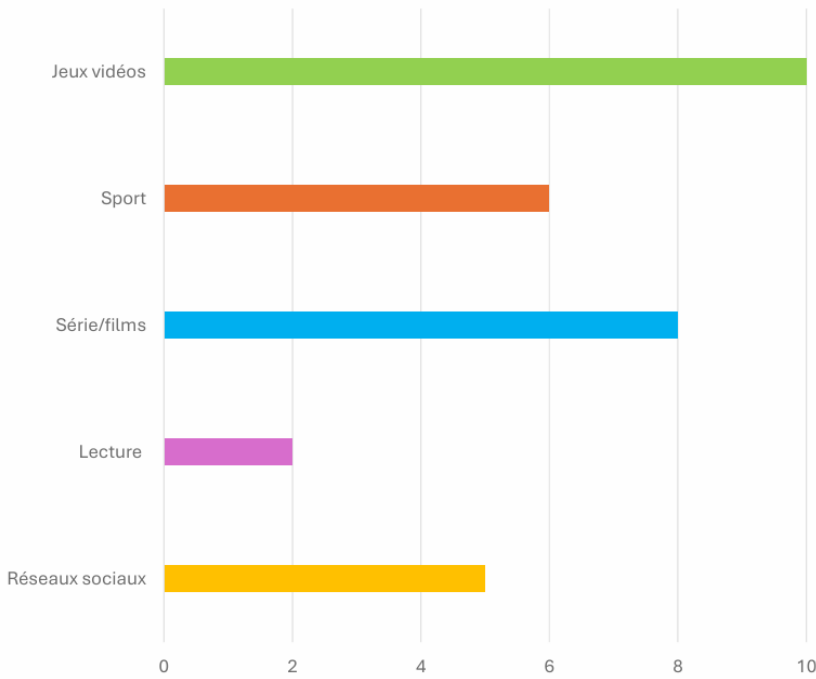
4.

.....

5.

.....

Temps passé par Lucas sur un loisir durant une semaine



1	Quel est le loisir qu'il préfère ?
2	Combien de temps Lucas passe-t-il sur les réseaux sociaux ?
3	Combien de temps passe-t-il au sport ?
4	Quel est le loisir qui lui prend le moins de temps ?
5	Combien de temps passe-t-il au sport ?

1.

.....

2.

.....

3.

.....

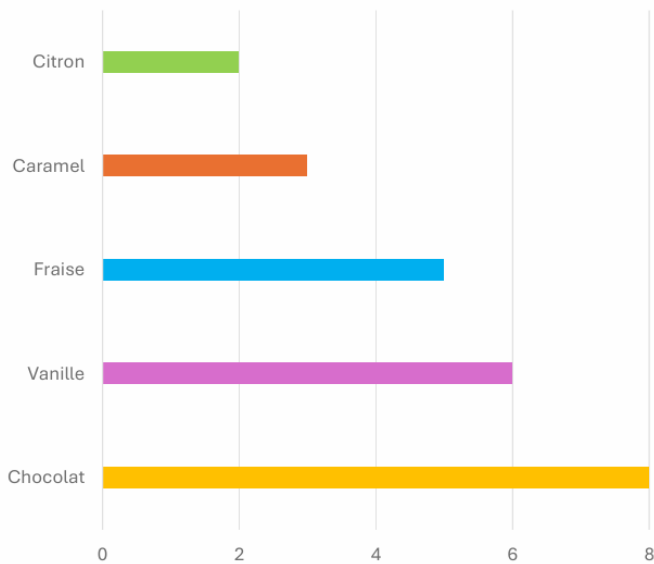
4.

.....

5.

.....

Parfums de glace préférés dans une classe de CM2



1	Quel parfum est le plus choisi ?
2	Combien d'élèves préfèrent le chocolat ?
3	Combien d'élèves ne préfèrent pas la vanille ?
4	Quel parfum est le moins choisi ?
5	Combien d'élèves préfèrent les parfums fruités ?

1.

.....

2.

.....

3.

.....

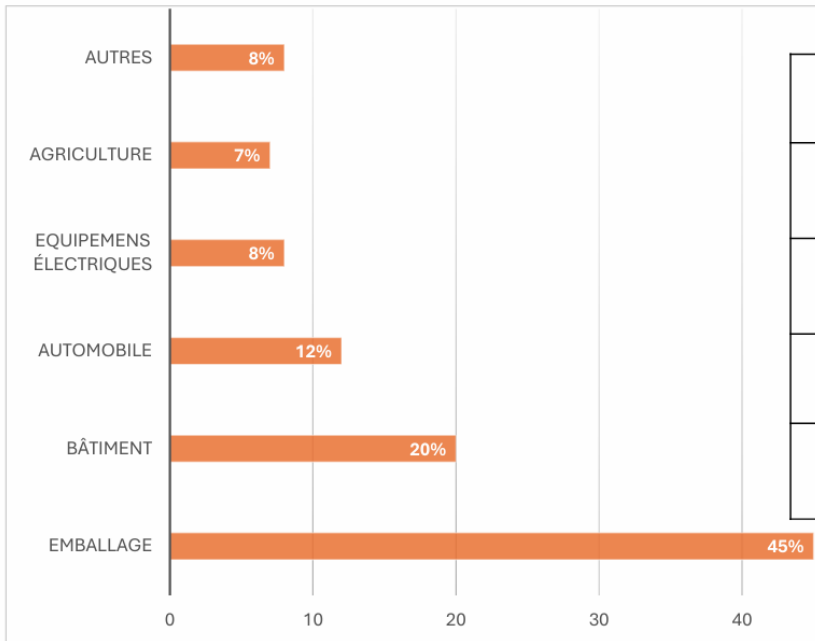
4.

.....

5.

.....

Répartition des déchets plastiques selon les secteurs



1	Quel secteur produit le plus de déchets plastiques ?
2	Quel secteur en produit le moins ?
3	Combien de pourcentage représentent les emballages ?
4	Quel secteur représente 12% des déchets ?
5	Combien d'élèves préfèrent les parfums fruités ?

1.

.....

2.

.....

3.

.....

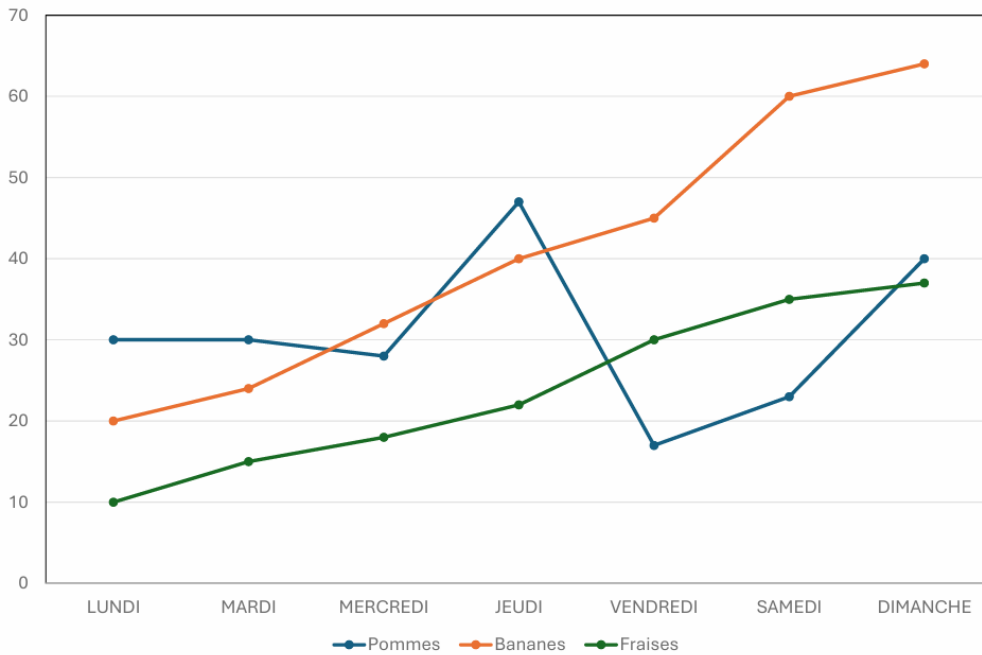
4.

.....

5.

.....

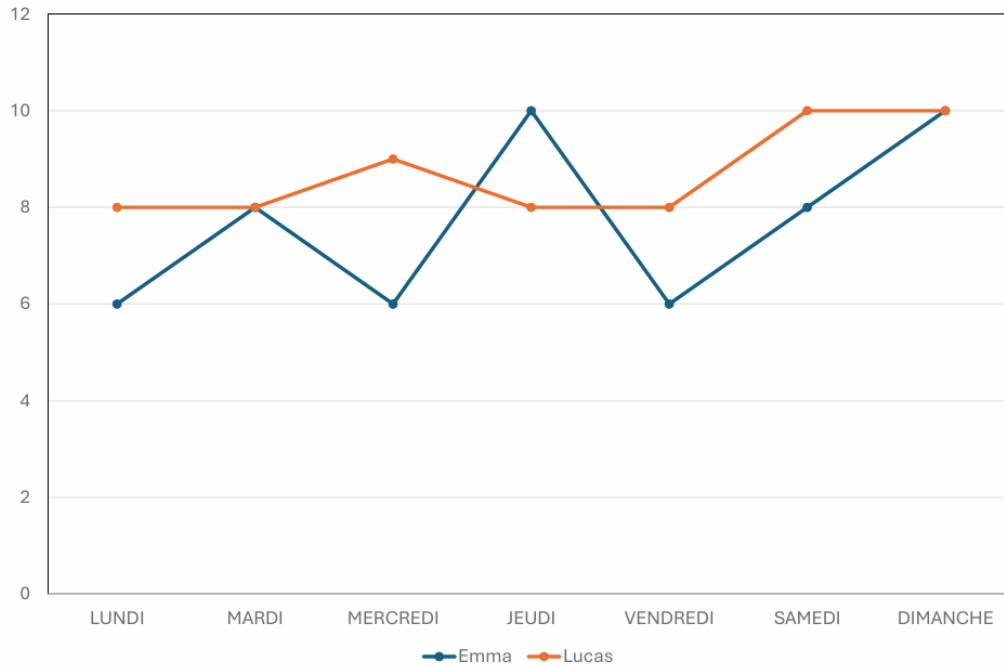
Quantité de fruits vendus au marché pendant une semaine



1	Combien de pommes ont été vendues mardi ?
2	Quel fruit a été le plus vendu mercredi ?
3	Combien de fruits ont été vendus en tout lundi ?
4	Combien de fraises de plus ont été vendues vendredi que lundi ?
5	Quelle courbe montre la plus forte augmentation sur 3 jours ?

1.
.....
2.
.....
3.
.....
4.
.....
5.
.....

Les heures de sommeil d'Emma et de Lucas sur une semaine



1	Combien d'heures Emma a-t-elle dormi lundi ?
2	Qui a dormi le plus longtemps jeudi ?
3	Combien d'heures Lucas a-t-il dormi vendredi ?
4	Quel jour Emma a-t-elle dormi plus que Lucas ?
5	Qui a dormi le plus durant cette semaine ?

1.

.....

2.

.....

3.

.....

4.

.....

5.

.....